






TEST IQ-INTELIGENȚĂ ȘI PERSPICACITATE

CLASELE I - A II-A

- Ce literă urmează în seria: E, F, G,?**
a) I; b) A; c) H; d) D; e) J.
- Dacă mâine ar fi joi astăzi ar fi**
a) marți; b) miercuri; c) duminică; d) vineri; e) sâmbătă.
- Cuvântul "picior" este legat de cuvântul "pantof" așa cum cuvântul "floare" este legat de cuvântul**
a) catedră; b) vază; c) florărie; d) ghiozdan; e) școală.
- Care figură nu ar trebui să se afle printre cele de mai jos?**
a)  ; b)  ; c)  ; d)  ; e)  .
- Ce literă ar trebui să facă parte din înșiruirea C, E, F, G?**
a) H; b) D; c) B; d) A; e) M.
- Avem lunile de vară: iunie, iulie, Ce lună lipsește?**
a) mai; b) august; c) aprilie; d) septembrie; e) decembrie.
- Părinților lui Mona le place mult litera A. Ei mai au încă trei fiice: Nona, Rona și**
a) Cona; b) Mona; c) Dona; d) Lona; e) Bona.
- Un copil are un cățel, doi copii au doi căței, trei copii au căței.**
a) șapte; b) șase; c) cinci; d) patru; e) trei.
- Cu toții am auzit de povestea "Fata babei și fata".**
a) bună; b) mării; c) moșneagului; d) popii; e) tatii.
- Într-o curte avem 1 pisică, 2 rațe și 1 purcel. Numărul total al picioarelor din acea curte este**
a) 10; b) 12; c) 14; d) 6; e) 9.
- "Ion" este pentru "noi" așa cum este "rac" pentru**
a) dud; b) arc; c) voi; d) car; e) cal.
- Alegeți cuvântul care nu are legătură cu celelalte!**
a) pâine; b) cașcaval; c) unt; d) dulceață; e) caiet.
- Dacă rearanjez toate cele patru litere: A, B, C, A obțin**
a) bac; b) bca; c) barcă; d) abac; e) abcd.
- Ce cifră urmează? 5, 6, 7, 8,**
a) 4; b) 9; c) 1; d) 2; e) 3.
- Avem următoarea listă: lingură, furculiță, Care cuvânt lipsește din listă?**

- a) abecedar; b) școlar; c) pom; d) linguriță; e) poieniță.

16. Dacă Pește/Submarin atunci Pasăre/.....

- a) barză; b) floare; c) automobil; d) avion; e) supă.

TEST IQ-INTELIGENȚĂ ȘI PERSPICACITATE

CLASELE A III-A - A IV-A

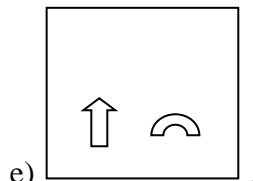
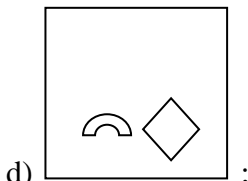
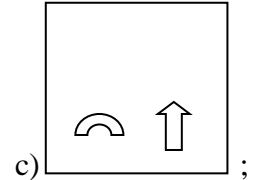
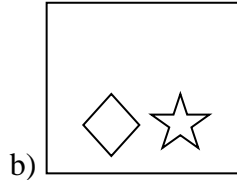
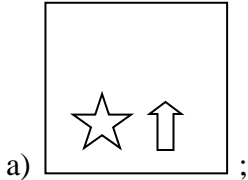
1. Ce literă urmează în seria: H J M P ?

- a) S; b) Ș; c) T; d) Ț; e) Î.

2. "Copitele" sunt pentru "girafă" așa cum sunt "dinții" pentru:

- a) leu; b) găină; c) miel; d) berbec; e) taur.

3. Care figură nu se încadrează logic în șirul celor cinci?



4. Dacă pe masă sunt 5 mere și tu iei 2, câte mere mai ai?

- a) 1; b) 2; c) 3; d) 4; e) 5.

5. EDARĂV cu literele în altă ordine este de fapt cunoscutul cuvânt

- a) VERITAS; b) DEVAAR; c) AEDVAR;
d) ADEVĂR; e) VERADA.

6. Ai 1000. Adaugă 30. Adaugă 1000. Adaugă 40. Și încă 1000. Plus 10. Plus 1000. Și încă 20. Care este totalul?

- a) 5000; b) 4000; c) 3000; d) 4100; e) 4010.

7. Dacă miercuri va fi a opta zi a lunii mai a anului 2013, atunci a douăzecișiopta zi a aceleiași luni va fi:

- a) luni; b) marți; c) miercuri; d) joi; e) vineri.

8. Ce număr urmează? 10, 200, 4000,

- a) 60000; b) 80000; c) 8000; d) 6000; e) 100.

9. Selectați cuvântul care nu are legătură cu celelalte:

- a) fotbal; b) baschet; c) handbal; d) șah; e) polo.

10. LUCRAT este pentru TARCUL așa cum 395721 este pentru

- a) 392157; b) 392175; c) 932157; d) 572193; e) 127593.
11. Care este opusul cuvântului "vesel"?
- a) zglobiu; b) râs; c) amuzant; d) mâhnit; e) cald.
12. Marcați următoarea literă care urmează: P S T W ...
- a) X; b) U; c) Y; d) V; e) Z.
13. Participi la o tură de alergări, îl depășești pe cel din poziția a treia. Pe ce loc te afli?
- a) al cincilea; b) al patrulea; c) întâi; d) al doilea; e) al treilea.
14. Tatăl Dorinei are 4 fete care se numesc: Drisina, Darina, Dalina și
Care este numele celei de-a patra?
- a) Delia; b) Dariana; c) Daniela; d) Daliana; e) Dorina.
15. Ce număr completează în mod logic seria: 17, 18, 20, 23, 27,?
- a) 32; b) 30; c) 28; d) 29; e) 31.
16. Ești la un concurs de atletism, cursa de alergări 5000m, la Olimpiadă. Dacă îl depășești pe ultimul, în ce poziție vei ajunge?
- a) ai fost eliminat; b) 1; c) 2; d) 3; e) ultimă.

TEST IQ-INTELIGENȚĂ ȘI PERSPICACITATE

CLASELE A V-A - A VI-A

1. Dacă bunicul are 50 de ani și nepotul 1 lună, de câte ori este mai în vârstă bunicul decât nepotul său?
- a) 50; b) 500; c) 600; d) 1000; e) 1500.
2. Dacă $x < y$ și $z > y$ atunci:
- a) $z > x$; b) $x = z$; c) $y = x$; d) $z = y$; e) $y > z$.
3. Ce număr completează în mod logic seria: 1, 7, 49, 343, ...
- a) 2004; b) 2001; c) 2401; d) 2013; e) 2030.
4. Un copil urcă o scară procedând astfel: urcă 7 trepte și coboară 4 trepte, apoi 6 și coboară 3, apoi 5 și coboară 2 și așa mai departe. Câte trepte are scara dacă el începe acest joc urcând 10 trepte și duce jocul acesta până la final?
- a) 10; b) 14; c) 16; d) 24; e) 30.
5. Alegeți forma care lipsește:

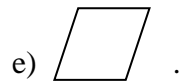
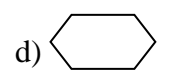
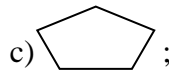
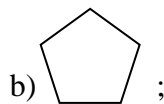
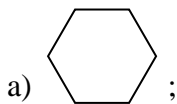
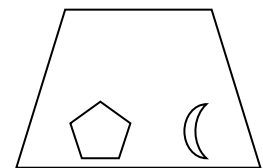
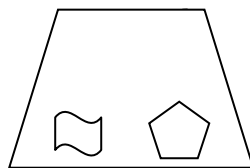
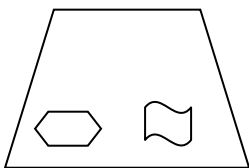


16. Două avioane decolează în același moment. Ele zboară peste Atlantic. Unul dintre ele pleacă din New York către Paris și zboară cu o viteză de 750 km/h. Al doilea pleacă din Paris către New York dar merge cu doar 700 km/h(din cauza condițiilor meteorologice). Care dintre cele două va fi mai aproape de Paris când se întâlnesc?
- a) primul; b) al doilea; c) ambele; d) 0; e) al treilea.

TEST IQ-INTELIGENȚĂ ȘI PERSPICACITATE

CLASELE A VII-A-A VIII-A

1. Ai 16 Kg de nisip. Care este numărul minim de cântăriri pentru a extrage doar 3 Kg de nisip din cantitatea dată? Ai la dispoziție o balanță cu platane și o greutate de 2 Kg.
- a) 2; b) 3; c) 4; d) 6; e) 8.
2. Care cifră urmează în șirul următor: 12, 28, 60 ...?
- a) 92; b) 124; c) 98; d) 144; e) 116.
3. Ce figură geometrică se potrivește în șirul următor, în ultimul trapez?



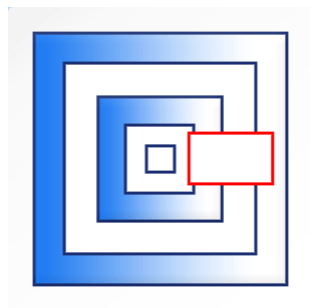
4. Ce literă urmează în șirul C, I, M, ...?
- a) O; b) P; c) Q; d) R; e) S.
5. Un important diplomat a fost găsit mort într-o zi de duminică la ora 10, în propria casă. Soția sa sună imediat la Poliție. Poliția a interogat pe toată lumea din casă și a adunat următoarele alibiuri:
- soția dormea;
 - bucătarul pregătea micul dejun;
 - grădinarul culegea niște legume;
 - menajeră era plecată la poștă să ridice corespondența;
 - omul de serviciu curăță WC-ul. Cine este criminalul?
- a) soția; b) bucătarul; c) gradinarul; d) menajera; e) omul de serviciu.
6. În deșert cel mai prețios lucru este:
- a) ciocolata; b) aurul; c) argintul; d) apa; e) vinul.
7. Unele dintre cele 12 luni au 31 de zile. Câte au 27 de zile?
- a) 0; b) 1; c) 2; d) 12; e) 3.
8. Graviția este mult scăzută:
- a) într-un submarin; b) în sateliții artificiali; c) la mare;
- d) în balon; e) la munte.

9. Câți de 1 intră între 0 și 100?
a) 1; b) 10; c) 19; d) 8; e) 21.
10. Volții sunt pentru tensiunea electrică, precum sunt pentru măsurarea suprafeței unui teren.
a) m²; b) cm; c) l; d) m³; e) w.
11. Azi este marți. Iar eu am hotărât să mă întorc din concediu cu trei zile mai devreme decât o săptămână după poimâine. Când mă întorc din concediu?
a) luni, următoarea săptămână;
b) marți, următoarea săptămână;
c) miercuri, următoarea săptămână;
d) joi, următoarea săptămână;
e) vineri, următoarea săptămână.
12. La 45 împărțit la 1/2 se adaugă 25. Care-i rezultatul?
a) 47; b) 47,5; c) 0; d) 48; e) 115.
13. Câte cani de ceai poți să bei dimineața pe stomacul gol?
a) 0; b) 1; c) 2; d) 3; e) 6.
14. Pentru ca un scaun să stea într-un echilibru stabil, e necesar să aibă minim picioare:
a) 1; b) 2; c) 3; d) 4; e) 5.
15. Alege numărul care completează șirul următor: 64, 49,
a) 45; b) 36; c) 25; d) 16; e) 35.
16. Imaginează-ți 3 mere pe masă: unul roșu, unul galben și unul verde. În fața ta se află proprietarul merelor. Dacă faci o afirmație adevărată, vei primi un măr. Dacă faci o afirmație falsă, nu vei primi nimic. Ce afirmație faci astfel încât să fii sigur că vei primi mărul roșu?
a) Nu-mi vei da nici mărul galben, nici mărul verde;
b) Îmi vei da fie mărul galben, fie mărul verde;
c) Îmi vei da fie mărul galben, fie mărul roșu;
d) Îmi vei da fie mărul roșu, fie mărul verde;
e) Nu-mi vei da nimic.

TEST IQ-INTELIGENȚĂ ȘI PERSPICACITATE

CLASELE A IX-A-A X-A

1. Alegeți forma care lipsește:





2. Un arab are 17 cămile, când moare lasă prin testament cele 17 cămile celor 3 fii, celui mare o jumătate, celui mijlociu o treime iar celui mic a 9-a parte din cămile. Câte cămile revin fiecăruia dintre cei 3 fii, fără a tăia vreuna?
- a) 9, 6, 2; b) 9, 5, 3; c) 8, 6, 3; d) 8, 5, 4; e) 8, 7, 2.
3. Câte luni ale anului calendaristic au 29 de zile mereu?
- a) 1; b) 6; c) 0; d) 5; e) 11.
4. Se dau trei pahare puse pe o masă, două dintre ele întoarse cu fața în jos. Din câte mișcări, întorcând câte două pahare în orice mod stabil, se pot aduce toate paharele cu fața în jos?
- a) 1; b) 2; c) 3; d) 4; e) 5.
5. Se dă șirul: 0, 27, 44, 61, 88, ... Ce număr urmează?
- a) 94; b) 105; c) 126; d) 139; e) 178.
6. Se dă șirul: 36, 52, 72, Care este următorul termen?
- a) 78; b) 82; c) 96; d) 100; e) 114.
7. La o oră de desen, numărul elevilor absenți era $\frac{1}{7}$ din numărul celor prezenți. Din cauza mirosului de acuarele, încă unuia i se face rău și astfel numărul absenților devine $\frac{1}{5}$ din numărul celor prezenți. Câți elevi erau prezenți la începutul orei?
- a) 7; b) 5; c) 14; d) 10; e) 21.
8. Ce număr urmează în șirul 1, 18, 13, ... ?
- a) 3; b) 15; c) 18; d) 24; e) 4.
9. Dacă fiul lui Vasi este tatăl fiului meu, ce sunt eu pentru Vasi(eu sunt o ființă umană)?
- a) fiu; b) tată; c) unchi; d) mamă; e) nepot.
10. Ce număr urmează în seria 1, 3, 7, 15,
- a) 31; b) 42; c) 56; d) 61; e) 78.
11. Alegeți forma care lipsește:

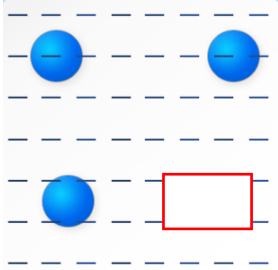







12. Se dă un cub din lemn cu latura de 3 cm, vopsit cu verde doar pe exterior. Care este numărul minim de tăieturi care trebuie făcute astfel încât cubul să fie divizat în cuburi cu latura de 1 cm?
- a) 2; b) 3; c) 4; d) 5; e) 6.

13. Ce simbol matematic putem pune între 2 și 3 astfel încât să ne rezulte un număr mai mare decât 2 dar mai mic decât 3?
 a) ; ; b) x ; c) ln; d) +; e) -.
14. Ce număr urmează în secvența 3, 12, 39, 120, ...?
 a) 323; b) 363; c) 396; d) 362; e) 381.
15. Alege numărul care completează șirul următor: 289, 256, ...
 a) 122; b) 100; c) 225; d) 244; e) 216.
16. Se dă șirul următor de numere: 1, 3, 7, 12, 18, 26, 35, 45, ...
 Ce număr urmează?
 a) 56; b) 69; c) 73; d) 81; e) 92.

TEST IQ-INTELIGENȚĂ ȘI PERSPICACITATE

CLASELE A XI-A - A XII-A

1. Care număr nu se potrivește în șirul: 981, 716, 523, 303, 116.
 a) 981; b) 716; c) 523; d) 303; e) 116.
2. Alegeți forma care lipsește:
- 
- a)  ; b)  ; c)  ; d)  ; e) .
3. ABC, DGH, Care este grupul următor?
 a) CDE; b) IKL; c) DBF; d) GDH; e) JKL.
4. MNO, NOM, Care este grupul următor?
 a) MON; b) ONM; c) NMO; d) NMN; e) OMN.
5. Care este următorul număr din secvența următoare? 1, 11, 21, 1211, 111221, 312211,
 a) 13112221; b) 3112122211; c) 1112223333;
 d) 1113213211; e) 321112311.
6. Un copil are înălțimea de un metru. El urcă pe o scară la înălțimea de 1 metru. Ce înălțime are acum copilul?
 a) 0; b) 1; c) 2; d) 3; e) 4.
7. Daniel avea 5 mașinuțe. În afară de 2, el le-a stricat pe toate. Câte mașinuțe i-au rămas nestricate?
 a) 0; b) 1; c) 2; d) 3; e) 4.
8. Daniela și cele două surori ale ei au împreună 40 de ani. Câți ani are Daniela, dacă suma vârstelor

celor două gemene este egală cu vârsta ei?

- a) 0; b) 10; c) 20; d) 30; e) 40.

9. Ce număr lipsește în căsuța liberă din careul de mai jos:

6	4	64	9
2	1	49	81
8	7	0	25
3	9		8

- a) 7; b) 6; c) 5; d) 4; e) 3.

10. Ai două borcane cu 100 de bile. 50 dintre bile sunt albastre, iar 50 sunt roșii. Unul dintre borcane va fi ales la întâmplare. Apoi o bilă va fi aleasă la întâmplare din borcanul ales anterior. Care este șansa de a alege o bilă roșie?

- a) 33,33%; b) 50%; c) 25%; d) 75%; e) 100%.

11. Alexandra ține lingurița în mâna stângă. În ce mână ține Alexandra lingurița, în imaginea ei din oglindă?

- a) stângă; b) dreaptă; c) n-o mai ține în mână;
d) e în ceașcă; e) e în farfurie.

12. Ce e mai greu, un kilogram de plumb sau unul de aluminiu?

- a) unul de plumb; b) unul de aluminiu; c) aliajul celor două;
d) sunt la fel; e) aliajul pur al celor două.


13. Pe un cerc sunt cinci puncte aflate la distanțe egale. De câte linii drepte este nevoie pentru a uni toate punctele între ele?

- a) 0; b) 1; c) 5; d) 8; e) 10.

14. Ce număr nu se încadrează în următorul șir 2, 3, 5, 7, 8, 11?

- a) 2; b) 3; c) 5; d) 7; e) 8.

15. Alegeți forma care lipsește:



- a) ; b) ; c) ; d) ; e) .

16. Ai opt bile de metal, dintre care una este mai grea decât celelalte. Care este numărul minim de cântăriri în urma cărora poți identifica (folosind o balanță) bila cea mai grea?

- a) 0; b) 1; c) 2; d) 3; e) 4.